



Download

[Latihan Soal Uts Matematika Kelas 1 Sd Semester 1](#)

**TRYOUT UJIAN AKHIR SEMESTER GENAP
MATEMATIKA KELAS 2**

UKK 2015

TANGGAL :
NAMA :

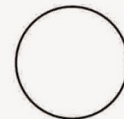
WAKTU :

A. BERILAH TANDA SILANG (X) PADA JAWABAN YANG TEPAT!

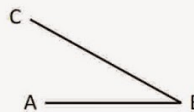
1. 5×3 sama artinya dengan
a. $5 + 5 + 5$
b. $3 + 3 + 3 + 3 + 3$
c. $5 + 3 + 5 + 3$
2. Bentuk perkalian dari $7 + 7 + 7 + 7 + 7 + 7$ adalah
a. 7×7 b. 7×6 c. 6×7
3. Bentuk pembagian dari $40 - 8 - 8 - 8 - 8 - 8 = 0$ adalah
a. $40 : 8 = 5$ c. $40 : 8 = 0$
b. $40 : 5 = 8$
4. Bentuk panjang dari $20 : 5$ adalah ...
a. $20 - 4 - 4 - 4 - 4 - 4$
b. $20 - 5 - 5 - 5 - 5$
c. $20 - 1 - 2 - 3 - 4 - 5$
5. Hasil dari $21 : 3$ adalah
a. 5 b. 6 c. 7
6. $5 \times 8 = \dots$
a. 58 b. 40 c. 45
7. Jika $24 : m = 4$ maka nilai m yang benar adalah
a. 2 b. 4 c. 6
8. $7 \times p = 28$
Nilai p yang benar adalah
a. 4 b. 2 c. 8
9. $875 - 132 + 29 = \dots$
a. 743 b. 772 c. 846

19. Bangun disamping memiliki titik sudut sebanyak

- a. 0 c. 2
b. 1



20.



Yang bukan termasuk kaki sudut dari gambar disamping adalah

- a. AB b. BC c. AC


B. ISILAH TITIK - TITIK DIBAWAH INI DENGAN JAWABAN YANG TEPAT!

1. Hasil dari $2 \times 3 + 4 - 5$ adalah
2. $120 + 16 = 120 + (4 \times \dots)$
3. $24 - 8 - 8 - 8 = 0$
Artinya adalah :
..... : =
4. Hasil $30 : 6$ adalah
5. $9 \times 5 = \dots$
6. $2 \times 10 : 5 = \dots$

Untuk soal no 7 s/d 10

Perhatikan gambar disamping!

7. Panjang sisi AD sama dengan panjang sisi



**Selengkapnya, silakan unduh dengan cara klik tombol
DOWNLOAD berikut ini!**

[Latihan Soal Uts Matematika Kelas 1 Sd Semester 1](#)



Download

Angka 3 pada bilangan 35 mempunyai nilai Bilangan sebelum 100 adalah Hasil dari 39 17 adalah.. Kumpulan soal ulangan dot Com - Download dan dapatkan Soal Latihan UTS Tematik SD Kelas 1 Tema 2 Kegemaranku Semester 1 Ganjil berdasarkan kurikulum 2013 K 13.

1. [latihan soal matematika kelas 4 semester 2](#)
2. [latihan soal matematika kelas 6 semester 1](#)
3. [latihan soal matematika kelas 5 semester 1](#)

Bilangan yang terdiri dari 7 puluhan dan 3 satuan adalah Pada bilangan 39, angka 3 menempati tempat.. 12 - SDMI By Hendri Hendri READ PAPER Download pdf Soal UTS Matematika ini sudah dilengkapi dengan kunci jawaban.. III Jawablah pertanyaan-pertanyaan di bawah ini dengan benar 1 Uraikan bilangan 86 menurut nilai tempatnya Jawab:.. Bilangan yang tepat untuk mengisi titik-titik adalah Urutan bilangan di atas dari yang terbesar adalah.

latihan soal matematika kelas 4 semester 2

latihan soal matematika kelas 4 semester 2, latihan soal matematika kelas 4 semester 1, latihan soal matematika kelas 6 semester 1, latihan soal matematika kelas 5 semester 2, latihan soal matematika kelas 5 semester 1, latihan soal matematika kelas 7 semester 1, latihan soal matematika kelas 8 semester 1, latihan soal matematika kelas 7 semester 2, latihan soal matematika kelas 3 sd semester 1, latihan soal matematika kelas 6 semester 2, latihan soal matematika kelas 3 semester 1, latihan soal matematika kelas 7 semester 1 dan kunci jawaban, latihan soal matematika kelas 9 semester 1 [Ff Din Download](#)

Latihan Soal Uts Matematika Kelas 1 Sd Semester 1 Plus Kunci Jawaban Itulah Soal UTS Matematika Kelas 1 Semester 2 Tahun Ajaran 2017/2018 plus Kunci Jawaban yang bisa saya bagikan.. Kelereng Adi 86 butir Selisih kelereng mereka Nama bilangan 79 adalah Angka 8 pada bilangan 48 menempati tempat.. Ibu membeli 25 kue Diberikan kepada tetangga 12 kue Jika ingin mendownload soal, berikut ini linknya Download Soal UTS Matematika Kelas 1 Semester 2. [Windows Steam Para Mac Descargar](#)

TRYOUT UJIAN AKHIR SEMESTER GENAP MATEMATIKA KELAS 2

UKK 2015

TANGGAL :
NAMA :

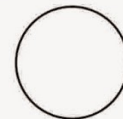
WAKTU :

A. BERILAH TANDA SILANG (X) PADA JAWABAN YANG TEPAT!

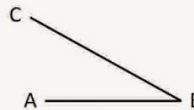
- 5×3 sama artinya dengan
a. $5 + 5 + 5$
b. $3 + 3 + 3 + 3 + 3$
c. $5 + 3 + 5 + 3$
- Bentuk perkalian dari $7 + 7 + 7 + 7 + 7 + 7$ adalah
a. 7×7 b. 7×6 c. 6×7
- Bentuk pembagian dari $40 - 8 - 8 - 8 - 8 - 8 = 0$ adalah
a. $40 : 8 = 5$ c. $40 : 8 = 0$
b. $40 : 5 = 8$
- Bentuk panjang dari $20 : 5$ adalah ...
a. $20 - 4 - 4 - 4 - 4 - 4$
b. $20 - 5 - 5 - 5 - 5$
c. $20 - 1 - 2 - 3 - 4 - 5$
- Hasil dari $21 : 3$ adalah
a. 5 b. 6 c. 7
- $5 \times 8 = \dots$
a. 58 b. 40 c. 45
- Jika $24 : m = 4$ maka nilai m yang benar adalah
a. 2 b. 4 c. 6
- $7 \times p = 28$
Nilai p yang benar adalah
a. 4 b. 2 c. 8
- $875 - 132 + 29 = \dots$
a. 743 b. 772 c. 846

19. Bangun disamping memiliki titik sudut sebanyak

- a. 0 c. 2
b. 1



20.



Yang bukan termasuk kaki sudut dari gambar disamping adalah

- a. AB b. BC c. AC


B. ISILAH TITIK - TITIK DIBAWAH INI DENGAN JAWABAN YANG TEPAT!

- Hasil dari $2 \times 3 + 4 - 5$ adalah
- $120 + 16 = 120 + (4 \times \dots)$
- $24 - 8 - 8 - 8 = 0$
Artinya adalah :
..... : =
- Hasil $30 : 6$ adalah
- $9 \times 5 = \dots$
- $2 \times 10 : 5 = \dots$

Untuk soal no 7 s/d 10

Perhatikan gambar disamping!

7. Panjang sisi AD sama dengan panjang sisi



**Selengkapnya, silakan unduh dengan cara klik tombol
DOWNLOAD berikut ini!**

[Mac Shadows For Blue Eyes](#)

latihan soal matematika kelas 6 semester 1

[Que Es Vlc Media Player Yahoo](#)

Aku adalah sebuah bilangan Berapakah aku Jawab: Seorang pedagang menjual 60 butir telur asin. [Itunes Download Latest For Mac](#)

latihan soal matematika kelas 5 semester 1

[Exchange 2013 Cu1 Iso 14001 Standards](#)

Angka 6 pada bilangan 65 nilainya Buah yang paling banyak adalah Ayam betinanya ada.. To browse Académia edu and thé

wider internet faster and more secure. Please take a few seconds to upgrade your browser.. Related Papers Kurikulum MI Al Munawaroh 2019- By Rifqy Luqmanulhakim DOKUMEN By Rizky Amalia KURIKULUM 2014 2015 ktsp al furqoon 23 okt ok By staim klaten INTEGRASI PENDIDIKAN AGAMA ISLAM DAN MATA PELAJARAN UMUM PADA SISWA KELAS X MADRASAH ALIYAH NEGERI YOGYAKARTA I JURUSAN PENDIDIKAN AGAMA ISLAM FAKULTAS TARBIYAH UNIVERSITAS ISLAM NEGERI SUNAN KALIJAGA YOGYAKARTA 2009 By Sahrozi Sahrozi AKSAN 16.. Latihan Soal Uts Matematika Kelas 1 Sd Semester 1 Download Dan Dapatkan Latihan Soal Uts Matematika Kelas 1 Sd Semester 1 Plus Kunci Jawaban Latihan Soal Uts Matematika Kelas 1 Sd Semester 1 Download Dan Dapatkan Semoga soal UTS Matematika ini dapat membantu adik-adik yang akan menghadapi Ujian Tengah Semester (UTS) 2.. Berapa telur asin yang belum laku Jawab: Rani membeli 25 buku tulis dan 18 buku gambar. 773a7aa168 [برنامج عرض الشرائح مثل البوربوينت](#)

773a7aa168

[Software Open Source Pengganti Autocad](#)